


## Лист наблюдения для гимназии Исследовательское обучение

TABIVERE

 Обозначь  
на рисунке  
пункты измерения




Дата \_\_\_\_\_

Время \_\_\_\_\_

Наблюдение выполняли



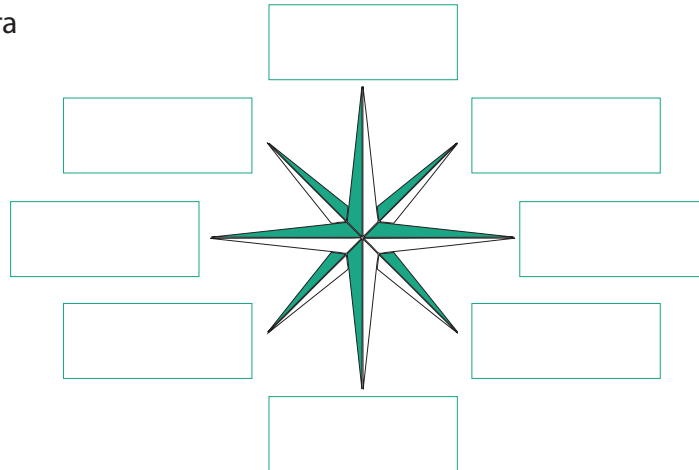
	Измерительный пункт 1	Измерительный пункт 2	Измерительный пункт 3
Глубина озера			
Прозрачность воды			
Vee värvus			
температура воды на поверхности водоёма			


Измерения на разных глубинах

1 м	Температура			
	O <sub>2</sub> %			
5 м	Температура			
	O <sub>2</sub> %			
10 м	Температура			
	O <sub>2</sub> %			
15 м	Температура			
	O <sub>2</sub> %			
20 м	Температура			
	O <sub>2</sub> %			
25 м	Температура			
	O <sub>2</sub> %			


# Лист наблюдения

 Напиши стороны света



 Отметь на карте пункт наблюдения


 Отметь на карте исходную точку поездки


 Определи курс

Задания в пункте наблюдения

 В каком направлении находится церковь

 В каком направлении находится Школа природы

 В каком направлении находится усадьба Саадъярве

 Направление ветра