









-  Tutvu Vooremaa väljapanekuga (filmiklipid, makett, voore läbilõige).
-  Leia Vooremaa maketilt koht, kus asub Raigastvere vaatetorn.
-  Tutvu vaatetorni töölehe ülesannetega.  
Kujutle ja aruta oma kaaslasega, millised võiksid olla vastused vaatluse ülesannetele.
-  Külasta vaatetorni, täida vaatlusleht ja võrdle seda oma esialgse kujutlusega.  
Too välja sarnasused ja erinevused.

Sarnasused

Erinevused

1



-  Tutvu Vooremaa väljapanekuga (filmiklipid, makett, voore läbilõige).
-  Leia Vooremaa maketilt koht, kus asub Raigastvere vaatetorn.
-  Tutvu vaatetorni töölehe ülesannetega.  
Kujutle ja aruta oma kaaslasega, millised võiksid olla vastused vaatluse ülesannetele.
-  Külasta vaatetorni, täida vaatlusleht ja võrdle seda oma esialgse kujutlusega.  
Too välja sarnasused ja erinevused.

Sarnasused

Erinevused

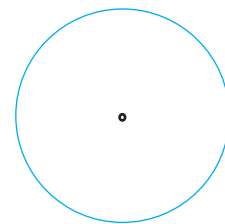
1



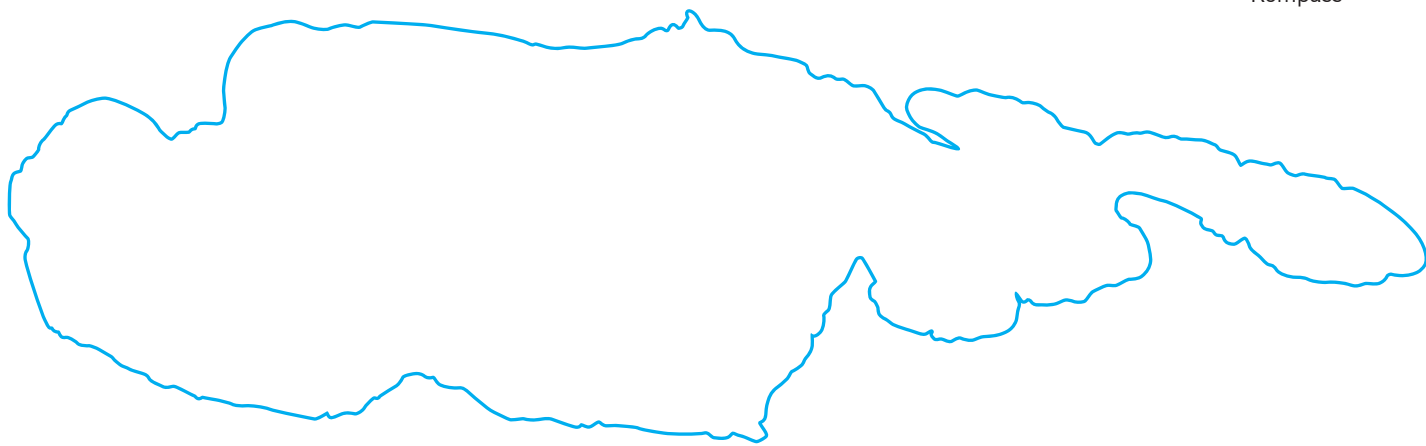
Milline Vooremaa järv on skeemil?

Pane paika ilmakaared, joonista kompassi nool.

Kirjuta järve äärde asulate nimed.



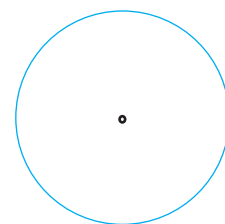
Kompass



Milline Vooremaa järv on skeemil?

Pane paika ilmakaared, joonista kompassi nool.

Kirjuta järve äärde asulate nimed.



Kompass

