


## Лист наблюдения Лист наблюдения

Дата \_\_\_\_\_, Время \_\_\_\_\_


Наблюдение выполняли

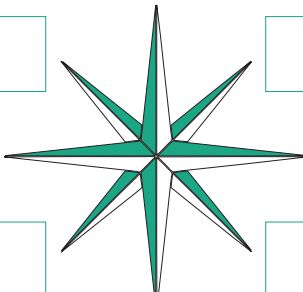
\_\_\_\_\_,  \_\_\_\_\_  
 \_\_\_\_\_,  \_\_\_\_\_  
 \_\_\_\_\_

 Отметь на карте пункт наблюдения


 Отметь на карте исходную точку поездки


 Определи курс


 Напиши  
стороны света




Задания в пункте наблюдения

 В каком направлении  
находится церковь

 В каком направлении  
находится Школа  
природы

 В каком направлении  
находится усадьба  
Саадъярве

 Направление ветра


## Лист наблюдения Лист наблюдения

Дата \_\_\_\_\_, Время \_\_\_\_\_


Наблюдение выполняли


\_\_\_\_\_,  \_\_\_\_\_  
 \_\_\_\_\_,  \_\_\_\_\_  
 \_\_\_\_\_

 Отметь на карте пункт наблюдения


 Отметь на карте исходную точку поездки


 Определи курс


 Напиши  
стороны света




Задания в пункте наблюдения

 В каком направлении  
находится церковь

 В каком направлении  
находится Школа  
природы

 В каком направлении  
находится усадьба  
Саадъярве

 Направление ветра
